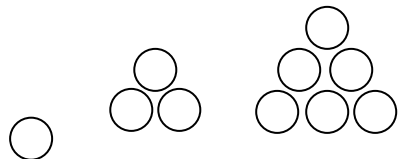


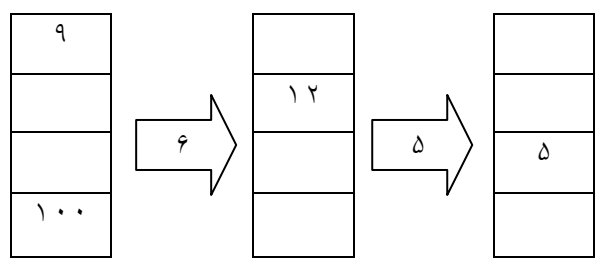
# آمادگی و دبستان دفترانه غیر دولتی

## سرگرایش نو

۱- الگوهای زیر را ادامه دهید  
..... و ..... و .....  
..... و ..... و .....  
..... و ..... و .....  
..... و ..... و .....  
..... و ..... و .....  
..... و ..... و .....  
..... و ..... و .....  
..... و ..... و .....  
..... و ..... و .....  
..... و ..... و .....



۲- با توجه به کاری که هر ماشین انجام می دهد ، در جاهای خالی عدد مناسب بنویسید .



۳- علی ساعت ۸ صبح به مدرسه می رود . اگر زمان حضور او در مدرسه ۶ ساعت باشد ، علی چه ساعتی به خانه برمی گردد ؟ (به صورت بیان کنید .)

۴- تمام عددهای ۳ رقمی را بنویسید که صدگان آن ۸ یا ۶ ، دهگان آن ۴ یا ۳ و یکان آن ۵ باشد . (از طریق جدول نظامدار)

۵- ۶۰ تله ایران به اندازه ۵۰۰ پوند کشور شکرستان می ارزد . ۴ تومانی ایران چند پوند کشور شکرستان است ؟

۶- در جاهای خالی عدد مناسب بنویسید .  
 $500 + 3000 + 40 = \dots\dots\dots$   
 $2000 + 20 + 1 = \dots\dots\dots$   
 $5421 = \dots\dots\dots + \dots\dots\dots$   
 $9048 = \dots\dots\dots + \dots\dots\dots$

۷- مدرسه ۶ پایه دارد که در هر پایه ۲ کلاس درس وجود دارد و هر کلاس ۲۰ دانش آموز دارد . ابتدا جدول را کامل کنید و سپس به سوالات پاسخ دهید .

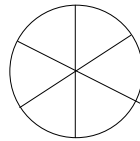
پایه						
کلاس						
دانش آموز						

الف) ای (ب) این مدرسه چند دانش آموز دارد ؟

۸- پدر مهسا و مبینا به آنها مقدار مساوی کلات داد ۷ مهس ۱/۸ و مبینا ۱/۸ شکلات هایشان را خوردند . برای کدامیک مقدار بیشتری شکلات باقی مانده است ؟

۹- در جاهای خالی علامت مناسب  $= > <$   
 $\frac{2}{6} \bigcirc \frac{6}{6}$       $\frac{4}{8} \bigcirc \frac{4}{1}$       $\frac{3}{3} \bigcirc \frac{3}{6}$   
 $\frac{2}{3}$  واحد      $\frac{1}{3}$  واحد      $\frac{3}{3}$  واحد و ۳ واحد

۱۰- برای شکل روبرو ۲ کسر مساوی بنویسید .



..... = .....

۱۴- در جاهای خالی عدد مناسب بنویسید .

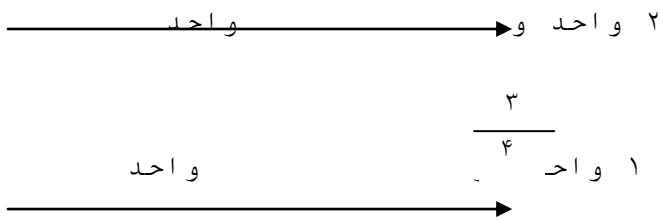
$$+ (\dots \times \dots)$$

$$5 \times (3 + 6) = (5 \times \dots)$$

$$\dots = 3 \times (\dots + 8)$$

$$(3 \times 9) + (3 \times \dots)$$

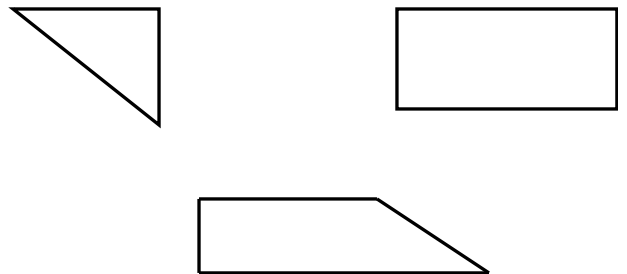
۱۵- د ۱ قسمت عدد خواسته شده را محور  $\frac{\quad}{2}$  دهید .



۱۱- جاهای خالی را به طور مناسب پر کنید .

۶۰ تومان ..... ول است .  
 ..... تومان ۷۰۰۰ ول است .  
 ۷ کیلوگرم و ۵۵۰ گرم یعنی ..... گرم  
 ۳۸۲۰ گرم یعنی ..... کیلوگرم و ..... گرم  
 ۱۴۳ سانتی متر یعنی ..... متر و ..... سانتی متر  
 ..... کیلومتر یعنی ۳۰۰۰ متر

۱۲- با استفاده از گونیا ، زاویه های راست را در شکل های زیر مشخص کنید .



ن	ق	خ	خ	انتظارات
				۱- مفهوم شمارش چندتاچندتا را درک کرده است .
				۲- مفهوم ساعت قبل از ظهر و بعدازظهر را درک کرده است .
				۳- مفهوم واحدهای اندازه گیری طول و جرم و تبدیل آنها به یکدیگر را درک کرده است .
				۴- مفهوم اعداد چهار رقمی را درک نموده است .
				۵- مفهوم کسر را به خوبی درک نموده است .
				۶- مفهوم توزیع پذیری ضرب را به خوبی درک نموده است .

۱۳- ۳ بنا ۳ بسته ۵ تایی و ۴ بسته ۵ تایی شکلات دارند . آنها روی هم رفته چند عدد شکلات دارند ؟