



به نام خدا

آزمون « ریاضی » پایه دوم مجتمع آموزشی غیر دولتی علوی



نام و نام خانوادگی: _____

۱- شکل ها را به دسته های ده تایی تقسیم کنید سپس جدول و جاهای خالی را پر نمایید.



ده تایی	یکی

با رقم: _____

با حروف: _____

۲- مانند الگو ادامه بدهید.

۴۲	۳۹	۳۶				
----	----	----	--	--	--	--

					بیست و چهار	هفده	ده
--	--	--	--	--	-------------	------	----

۳- با رقم های ۰ و ۷ عددهای دو رقمی بنویسید.

۴- ۷ عدد قبل از عددی که شکل نشان می دهد چند است؟



۵- با استفاده از ۳ مداد رنگی مربع ها را به دلخواه رنگ بزنید و جمع را کامل کنید.



_____ + _____ + _____ = ۱۰

۶- ۱۲ سیب در سبد بود. ۷ سیب دیگر در سبد گذاشتیم. محمد ۹ سیب از سبد برداشت. حالا چند سیب در

سبد مانده است؟

$5 + 20 + 30 + 10 + 5 + 5 =$

۷- حاصل جمع زیر را ذهنی به دست آورید.

۵۹

۲۵

۸- حاصل جمع و تفریق زیر را به دست آورید.

$- ۳۷$

$+ ۵۳$

۹- حسین ۵۴ دقیقه از روز را درس خوانده و بازی کرده است. اگر او ۳۶ دقیقه بازی کرده باشد چند دقیقه درس خوانده است؟

۱۰- با عدد یا حروف بنویسید.

نوزده

۳۹

۸۵

هفتاد و هشت

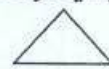
۱۱- نام هر شکل را بنویسید و تعداد ضلع ها و گوشه ها را مشخص کنید.



نام شکل:



نام شکل:



نام شکل:

تعداد ضلع:

تعداد ضلع:


تعداد ضلع:

تعداد گوشه:

تعداد گوشه:

تعداد گوشه:

۱۲- محمد ساعت ۵:۱۰ به خانه مادر برگش رفت. دو ساعت و ۲۰ دقیقه بعد به خانه برگشت. او ساعت چند به خانه برگشته است؟



۱۳- با توجه به خط های تقارن شکل را کامل


کنید.


۱۴- سکه زیر را به چند سکه ۱۰۰ ریالی و چند سکه ۱۰ ریالی می توان تبدیل کرد؟





۱۵- از ۳۰۰ تا ۹۰۰ صدتا بنویسید.

۱۶- تمام عددهای سه رقمی که می توان با رقم های ۷ و ۳ و ۲ نوشت به طوری که جمع رقم یکان و دهگان آن کم تر از صدگان باشد را بنویسید.

نیاز به تلاش بیش تر 

قابل قبول 

خوب 

خیلی خوب 

موفق باشید.