

به نام خدا

آمادگی و دبستان غیر دولتی پیام

سال تحصیلی ۹۳-۹۲

ارزشیابی دوره ای درس : ریاضی

مرحله : دوم

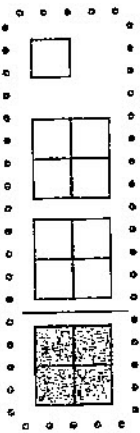
تاریخ : ۹۳/۲/۱۶

نام و نام خانوادگی:


پنجم

۱- در عدد ۶۴۸۰۰۰، یکان میلیون کدام عدد است؟

۲- با توجه به واحد، برای شکل زیر یک عدد مخلوط یا کسر بزرگ تر از واحد بنویسید.



۳- دو پنجم ۱۵ تا برابر است با تا آن را روی دایره‌ها نشان دهید.




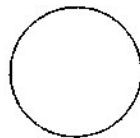
۴- کدام یک از عددهای زیر بر ۲ و ۳ بخش پذیر است؟ دور آن خط بکشید؟

۳۵۲ ۴۶۵ ۲۶۰ ۴۰۲


۵- کسر را تا آن جا که امکان دارد، ساده کنید.

$$\frac{۲۵}{۱۰۰} =$$

۶- هر شکل چند خط تقارن دارد؟



۷- نیم ساز زاویه ی راست را کشیده ایم. اندازه ی زاویه های به دست آمده را بنویسید.



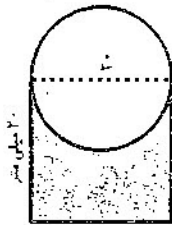
۲۰- اتوبوسی فاصله ی تهران تا قم را در ۳ ساعت طی کرده است. در ساعت اول ۴۵ کیلومتر، در ساعت دوم

۵۰ کیلومتر و در ساعت سوم ۵۵ کیلومتر راه را پیموده است. معدل (میانگین) سرعت این اتوبوس چه قدر بوده

است؟

۲۱- در یک جعبه به حجم ۳۳۶۰۰ سانتی متر مکعب، چند بسته به ابعاد ۵، ۳ و ۱۴ سانتی متر جا می گیرند؟

۲۲- مساحت قسمت رنگ شده چه قدر است؟



پانزده را خراب خوب خوب تا بن قبول بیار به تلاش